

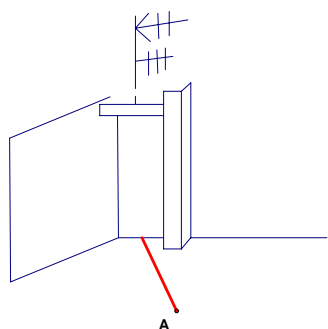
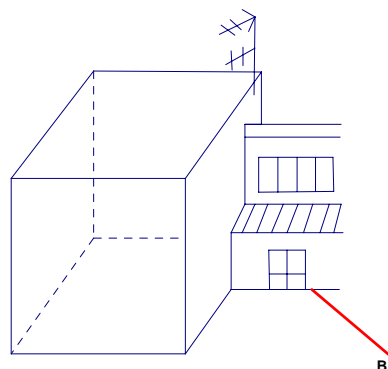
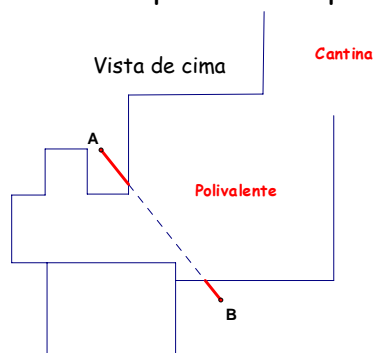
DISTÂNCIAS INACESSÍVEIS

"Trigonometria na resolução de problemas da vida real"



Tarefa 4

Nas figuras seguintes podemos observar um esboço da planta do polivalente da nossa escola (não se encontram à escala). Nesta tarefa pretende-se medir a distância do ponto A ao ponto B como podemos ver na figura.



- Elaborem um plano para a resolução deste problema, recorrendo aos conhecimentos de trigonometria;
- Façam a recolha de dados e determinem a distância pretendida;