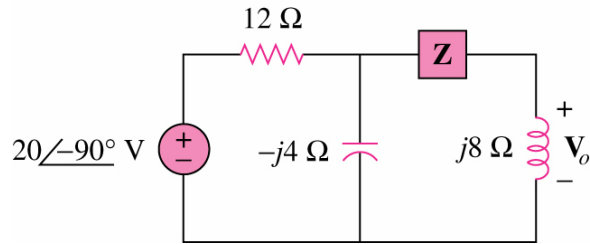
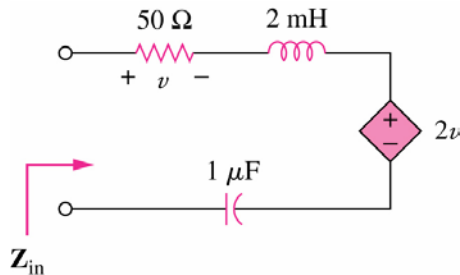


Ejercicio 1 – Encuentre el valor de Z para $V_o = 4\text{ V}$

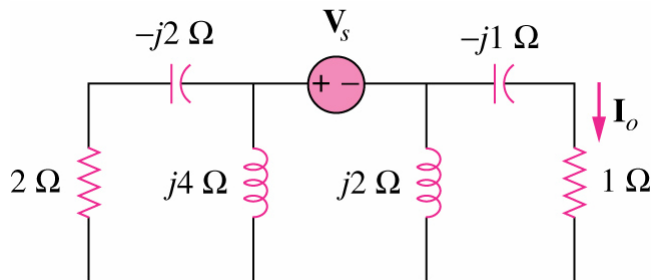


Ejercicio 2 – Obtenga Z_{in} para $\omega = 10\text{ krad/s}$



1

Ejercicio 3 – Calcule V_s si $I_o = 2\text{ A}$



2